





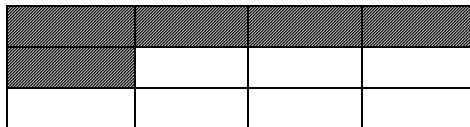
DESARROLLO DE HABILIDADES MATEMÁTICAS 4° BÁSICO

Nombre: _____ Curso: _____ Fecha: _____

12.- ¿En cuál de las siguientes alternativas la parte pintada de gris representa $\frac{4}{7}$ de la figura?

- a) 
- b) 
- c) 
- d) 

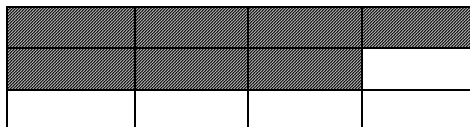
13.- La parte sombreada de la figura siguiente:



Corresponde a la fracción:

- a) $\frac{12}{12}$
b) $\frac{7}{12}$
c) $\frac{5}{12}$
d) $\frac{3}{12}$

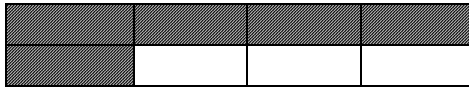
14.- La parte sombreada de la figura siguiente:



Corresponde a la fracción:

- a) $\frac{7}{12}$
b) $\frac{5}{12}$
c) $\frac{7}{5}$
d) $\frac{5}{7}$

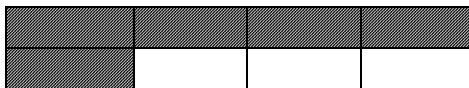
15.- La parte sombreada de la figura siguiente:



Corresponde a la fracción:

- a) $5/3$
- b) $3/8$
- c) $5/8$
- d) $3/5$


16.- La parte NO sombreada de la figura siguiente:



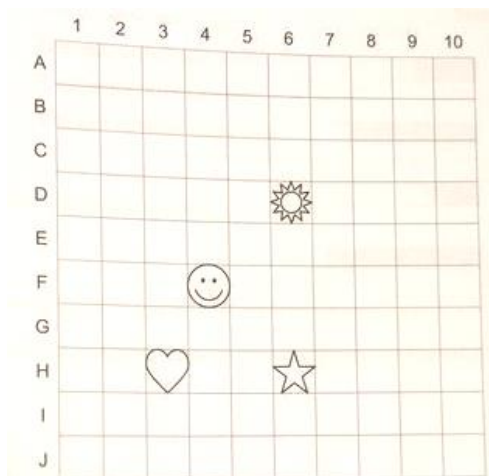
Corresponde a la fracción:

- a) $5/8$
- b) $3/8$
- c) $5/8$
- d) $3/5$

17.- ¿En cuál de las siguientes alternativas la parte pintada de gris representa $1/3$ de la figura?



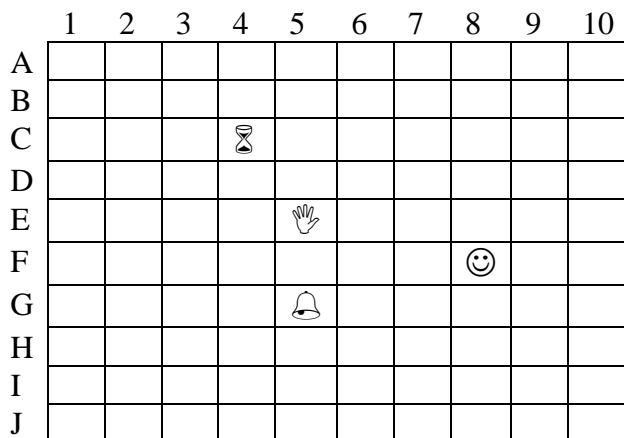
18.- Observa la siguiente cuadrícula.



¿Qué figura se encuentra en las coordenadas H6?

- a) ☆
- b) 😊
- c) ♥
- d) ☀





19.- Observa la siguiente cuadrícula.







¿Qué figura se encuentra en las coordenadas G5?

- a) 😊
- b) ✋
- c) 🕒
- d) 🔔





20.- Observa la siguiente cuadrícula.

	1	2	3	4	5	6	7	8	9	10
A										
B										
C										
D										
E										
F										
G										
H										
I										
J										





¿Qué figura se encuentra en las coordenadas I2?

- a) 
- b) 
- c) 
- d) 

21.- Observa la siguiente cuadrícula.

	1	2	3	4	5	6	7	8	9	10
A										
B										
C										
D										
E										
F										
G										
H										
I										
J										

¿Qué figura se encuentra en las coordenadas H7?

- a) 
- b) 
- c) 
- d) 

Respuestas:

1b	2d	3c	4c	5b
6b	7a	8b	9d	10c
11b	12a	13c	14a	15c
16b	17b	18a	19d	20c
21b				

Atte. Patricio Figueroa M.

Profesor de Matemática