

**DESARROLLO DE HABILIDADES MATEMÁTICAS – GUÍA N° 10 – 4° BÁSICO**

Nombre: _____ Curso: _____ Fecha _____

1. La cifra que representa el 9 en la cantidad 795 corresponde a:

- a. 70
- b. 900
- c. 700
- d. 90

2. En la siguiente secuencia, el número que ocupa el cuadro vacío corresponde a:

340	440	540		740
-----	-----	-----	--	-----

- a. 640
- b. 600
- c. 550
- d. 400

3. Si escribimos la cantidad $7UM + 3c + 8d + 9u$ corresponde a:

- a. 789
- b. 7.389
- c. 7.839
- d. 7.089

4. Si Pablo pagó una cuenta de \$ 1.560 con un billete de \$ 2.000. ¿Cuánto dinero recibió de vuelto?

- a. \$ 560
- b. \$ 156
- c. \$ 440
- d. \$ 1.000




5. El tren transporta carbón, cada carro se carga con 100 kilogramos más que el anterior. ¿Cuántos kilogramos lleva el quinto carro del tren?




- a. 548 kg.
- b. 448 kg.
- c. 748 kg.
- d. 648 kg.

6. La cantidad representada en la imagen corresponde a:



- a. 440
- b. 438
- c. 340
- d. 442

7. La cantidad representada en la imagen corresponde a:



- a. 1.251
- b. 351
- c. 1.352
- d. 1.025

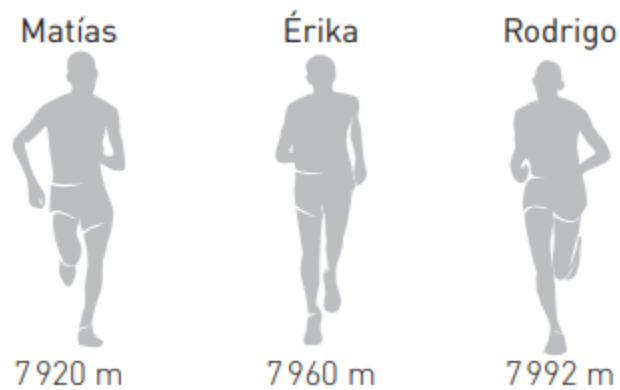


8. Mario recibió de vuelto del pago de la entrada al cine la cantidad de dinero que aparece en el cuadro. ¿Cuánto dinero recibió de vuelto?



- a. \$ 2.230
- b. \$ 4.343
- c. \$ 3.053
- d. \$ 4.300

9. En la corrida organizada el fin de semana por la municipalidad, los atletas recorrieron distintas distancias. ¿Quién corrió una menor distancia?



- a. Rodrigo
- b. Erika
- c. Matías
- d. Erika y Rodrigo

10. Catalina está ordenando las fechas de nacimiento de sus abuelos, tal como se indica en la imagen siguiente:



¿Cuál es el abuelo que tiene más edad?

- a. Andrés
- b. Carmen
- c. Gastón
- d. Javiera

11. El tío de Patricio ayer celebró sus 65 años de edad. ¿En qué año nació?

- a. 1.960
- b. 1.963
- c. 1.953
- d. 1.935

12. El 4° básico organizó una campaña de reciclaje de cajas de leche tetra pack. Los cursos participantes en la campaña reunieron las siguientes cantidades de cajas.

1.° básico 2 172 cajas	2.° básico 2 274 cajas	3.° básico 2 345 cajas	4.° básico 2 241 cajas
---------------------------	---------------------------	---------------------------	---------------------------

¿Qué curso reunió mayor cantidad de cajas?

- a. 1° básico
- b. 2° básico
- c. 4° básico
- d. 3° básico

13. Paula tiene el hábito de ahorrar parte del dinero que le dan sus abuelitos todas las semanas. Durante el mes pasado ahorro la cantidad que aparece en la imagen. ¿Cuánto dinero ahorró?



- a. \$ 4.450
- b. \$ 4.540
- c. \$ 5.550
- d. \$ 4.050

14. Camila ahorró \$ 874 la pasada semana y esta semana ahorró \$ 1.850. ¿Cuánto dinero ahorró Camila en las dos semanas?

- a. $2UM + 7c + 2d + 4u$
- b. $2UM + 2c + 7d$
- c. $2UM + 7c + 4d + 2u$
- e. $2UM + 2c + 2d + 4u$

Elaborado por:

Patricio Figueroa M.

pfigueroa@matematicas.cl

www.matematicas.cl

Respuestas:

1D	6D	11C
2A	7A	12D
3B	8B	13B
4C	9C	14A
5C	10B	

www.matematicas.cl